

PRÍPRAVA NA POLROČNÚ PREVIERKU

PONDELOK 11.1.

1. Vypočítaj.

$13+7=$ _____

$13-9=$ _____

$8+9=$ _____

$6+8=$ _____

$11-8=$ _____

$12+4=$ _____

$7+7=$ _____

$20-12=$ _____

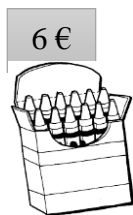

$11+9=$ _____

$9+6=$ _____

$15-7=$ _____

$5+7=$ _____

2. Slovná úloha: V peňaženke máš **20 eur**. Vyber si z ponuky tak, aby si nepresiahol sumu, ktorú máš v peňaženke a vypočítaj, koľko zaplatíš za nákup.



_____ eur

V peňaženke _____ eur

_____ eur

Nákup _____ eur

Zaplatím.....?

Zostalo?

Za nákup zaplatím _____ eur.

Zostalo mi _____ eur.

3. Vypočítaj:

$4+8+8-3-5 =$

$4+7-9+7+8 =$

$6+5-3+10-2 =$

4. O koľko je číslo 15 väčšie než číslo 7?

A/ o 9

B/ o 7

C/ o 8

5. Ktoré číslo je na číselnej osi štvrté za číslom osem?

A/ 8

B/ 12

C/ 14

6. Rozlož čísla na desiatky a jednotky

45 _____ $40 + 5$ _____

28 _____

73 _____

92 _____

7. Dopln číselný rad.

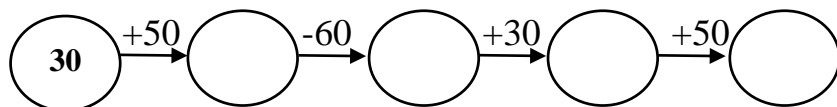
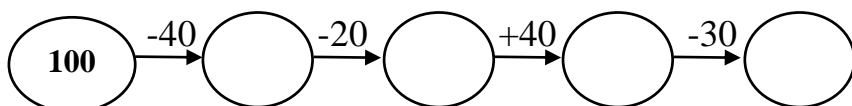
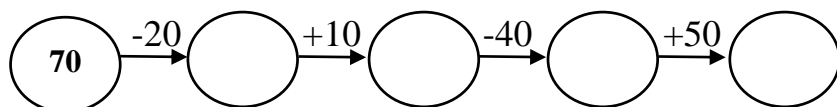
65, _____, _____, _____, 69

42, _____, _____, _____, 38

58, _____, _____, _____, 62

78, _____, _____, _____, 74

8. Vypočítaj.



9. Pracuj podľa zadania:

- Narysuj **priamku** a pomenuj ju **m**.
- Na priamke m vyznač **body A, B**.
- Vyznač **body M, N**, ktoré **neležia** na priamke m.

10. Pracuj podľa zadania.

- a. Narysuj **úsečku MN**.
- b. Vyznač bod **K**, ktorý **leží** na úsečke MN.
- c. Vyznač bod **L**, ktorý **neleží** na úsečke MN.